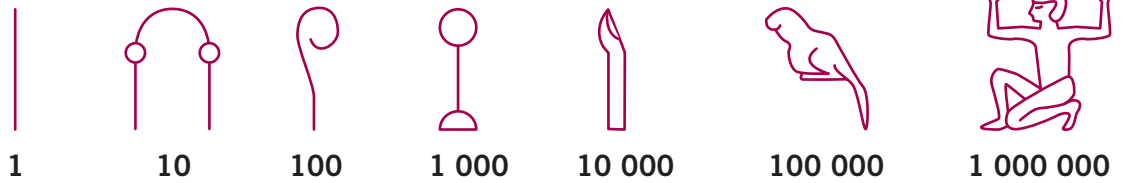

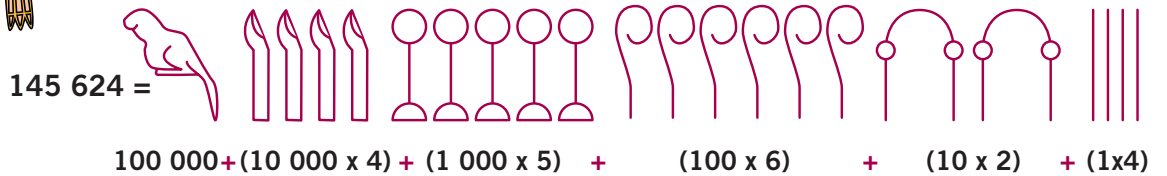


Pour écrire les nombres, les Égyptiens utilisaient les signes suivants :



Les nombres s'écrivaient de gauche à droite. Par exemple :

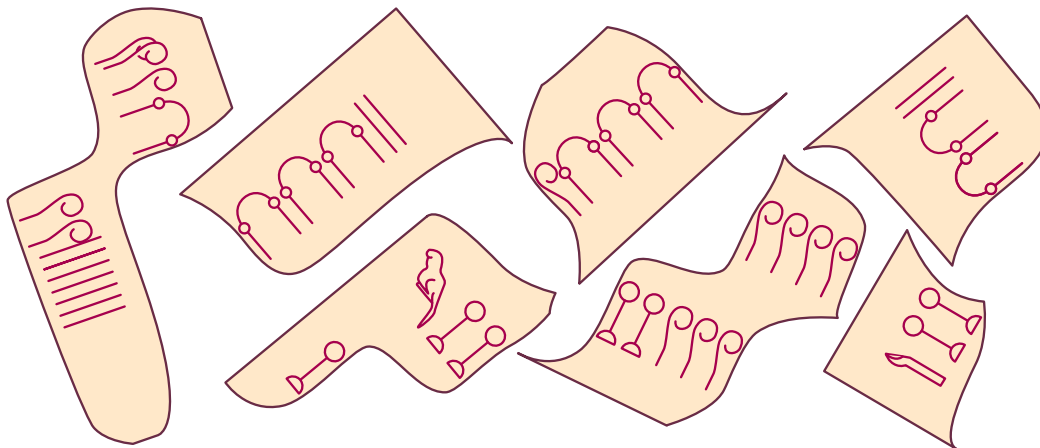


1. Écris le nombre ci-dessous en chiffres arabes :

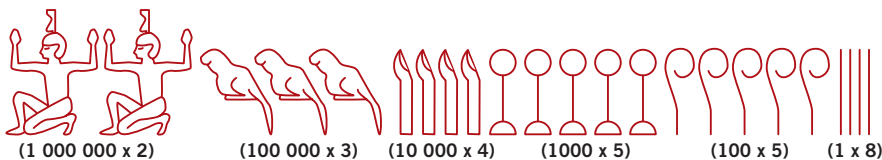


= (1000000 x 2) +
=

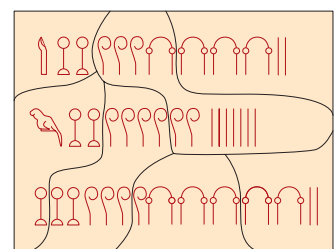
2. Reconstitue le papyrus et écris en chiffres arabes les trois nombres qui sont écrits dessus :



Corrigé pour les parents



$= 2\,000\,000 + 300\,000 + 40\,000 + 5\,000 + 500 + 8$
 $= 2\,345\,508$



Nombres dans l'ordre :
12342 ; 102607 ; 3452