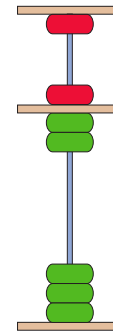
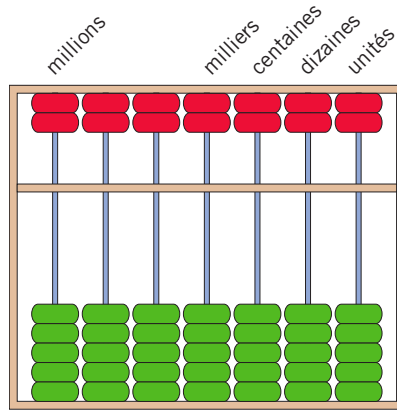


Dans le boulier chinois, chaque tige porte deux boules qui valent 5 (en haut) et cinq boules qui valent 1 (en bas)



Les boules rapprochées du centre sont seules comptabilisées.
 $(5 \times 1) + (1 \times 2) = 7$

Consigne 1 : choisis dans cette liste de nombres celui qui est représenté sur chaque boulier.

10 000

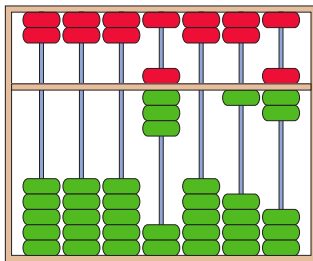
1 201

8 017

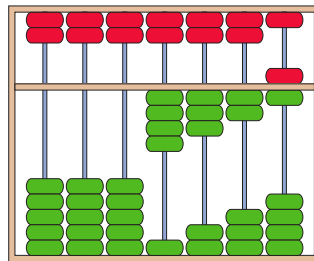
4 326

3 545

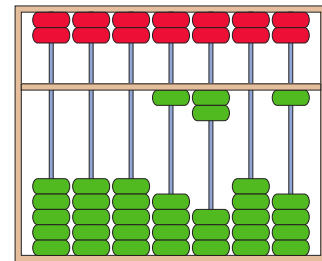
1 273



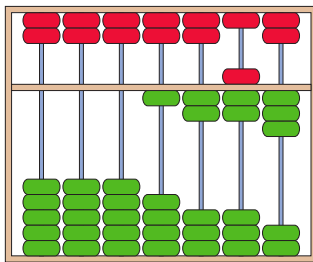
a) _____



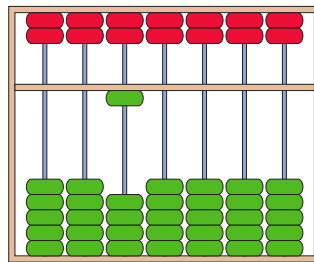
b) _____



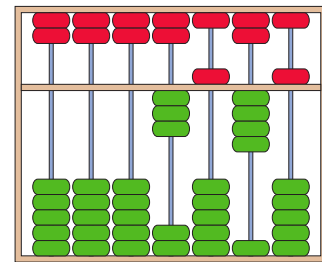
c) _____



d) _____

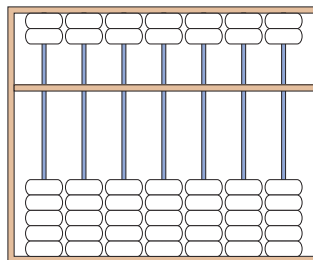


e) _____

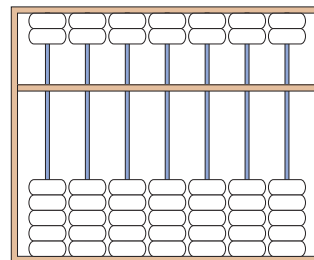


f) _____

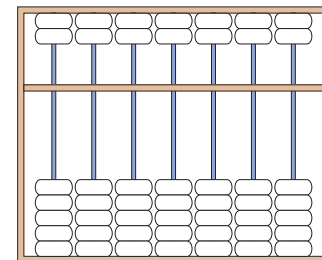
Consigne 2 : colorie en rouge les boules que tu vas déplacer vers le centre pour obtenir les nombres inscrits sous chaque boulier.



9 675



7 555



9 953

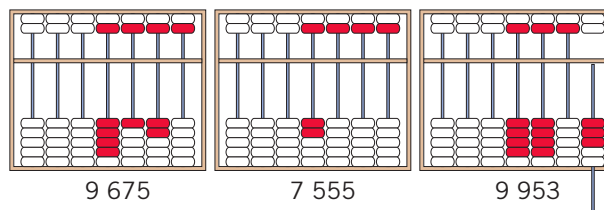


Corrigé pour les parents

1.

- a) 8017 ; b) 4326 ; c) 1201
- d) 1273 ; e) 10 000 ; f) 3545

2.



9 675

7 555

9 953