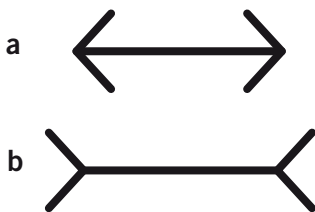



les illusions d'optique


Observe les dessins et entoure la bonne réponse.



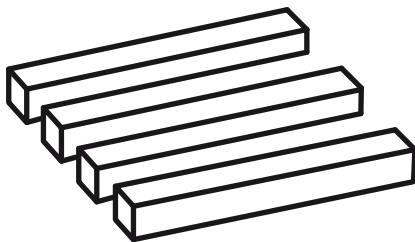
A Le segment **a** est plus petit que le segment **b** :
oui non




B Les 2 cercles oranges sont de la même taille :
oui non



C Les lignes sont parallèles :
oui non



D Combien y a-t-il de bâtons ?
3 4



E Dans quel sens vont les flèches ?
vers le haut vers le bas

A NON : les 2 segments ont la même longueur.
B OUI : les 2 cercles sont de la même taille.
C OUI : les lignes sont toutes parallèles.
D Il n'y a pas de bâton, cet objet ne peut pas exister !
E Les 2 réponses sont justes :
les flèches oranges vont vers le bas,
et les flèches blanches vers le haut.