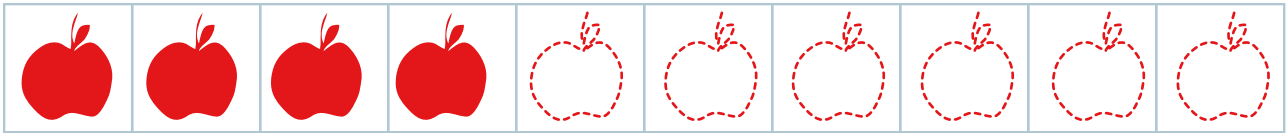



Complète la rangée de fruits. Inscris en dessous à gauche le nombre de fruits déjà dessinés et à droite le nombre de fruits que tu as ajoutés. Vérifie combien il y a de fruits en tout dans chaque rangée. Tu dois trouver 10.


exemple



4	6	= 10
---	---	------



		= 10
--	--	------



		= 10
--	--	------



		= 10
--	--	------



		= 10
--	--	------